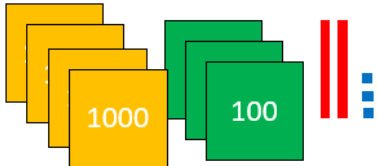


Nombres 3

Séance 25

1. Complète :



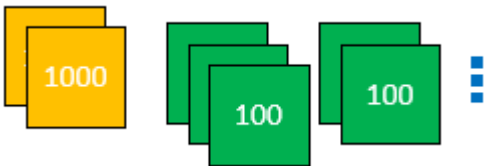
M	C	D	U

$$\dots = \dots \times 1\,000 + \dots \times 100 + \dots \times 10 + \dots \times 1$$

Encadre ce nombre à la centaine :

..... < <

2. Complète :



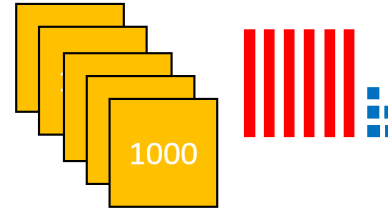
M	C	D	U

$$\dots = \dots \times 1\,000 + \dots \times 100 + \dots \times 10 + \dots \times 1$$

Encadre ce nombre à la centaine :

..... < <

3. Complète :



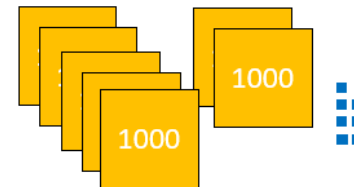
M	C	D	U

$$\dots = \dots \times 1\,000 + \dots \times 100 + \dots \times 10 + \dots \times 1$$

Encadre ce nombre à la centaine :

..... < <

4. Complète :



M	C	D	U

$$\dots = \dots \times 1\,000 + \dots \times 100 + \dots \times 10 + \dots \times 1$$

Encadre ce nombre à la centaine :

..... < <